

2022年度 入学試験問題

社 会

(第3回)

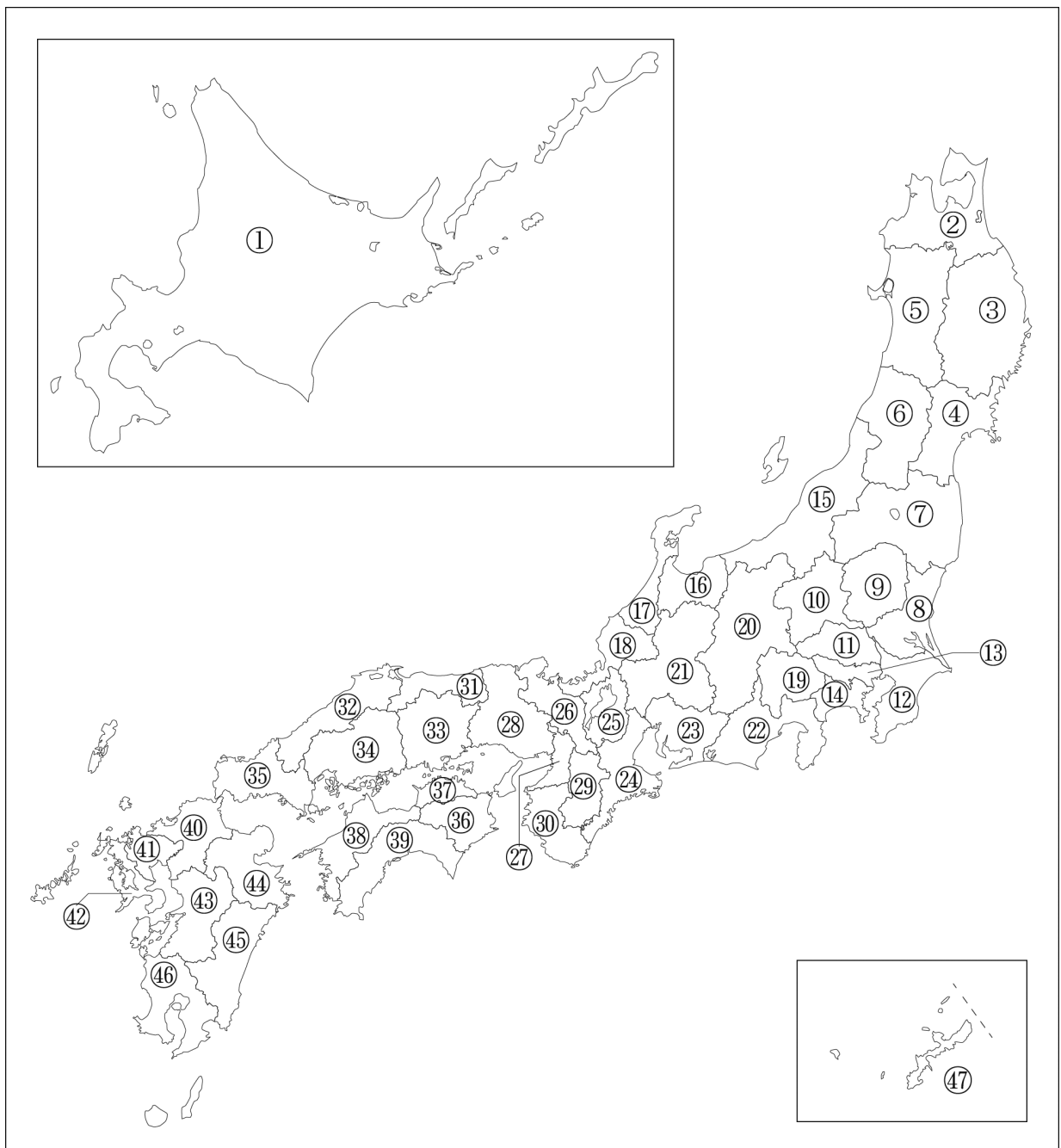
[注意]

1. 試験開始の合図があるまで、この問題冊子の中を見てはいけません。
2. 解答用紙は、問題冊子の中にはさんであります。試験開始の合図があったら、解答用紙を取り出して受験番号と氏名を記入し、QRコードシールをはりなさい。
3. 解答はすべて解答用紙に記入しなさい。特に指定がない場合は、ひらがなで構いません。
4. 問題冊子の余白等は自由に使って構いません。
5. 試験終了後、解答用紙のみ提出し、問題冊子は持ち帰りなさい。

1 次のA～Eの文は、各都道府県の特徴について説明しています。これを読んで、あとの問いに答えなさい。

- A 県庁所在地は、雄物川の下流に位置する平野にあり、新幹線の駅もある。
- B 中部地方にある都道府県としては、人口が一番多い。
- C 大鳴門橋で淡路島とつながっている。
- D 掘りこみ港を有する鹿島臨海工業地域がある。
- E 九州地方にある都道府県としては、沖縄県に次いで2番目に面積が小さい。

【略地図】



問1 Aについて、次の問いに答えなさい。

- (1) Aについて説明した文 a・b の正誤の組合せとして正しいものを下の 1～4 から一つ選び、番号で答えなさい。

- a 盛岡駅で分かれた新幹線は、横手盆地を通り、A の県庁所在地に伸びている。
b A の南部の県境には、ブナの原生林が広がる白神山地がある。

- 1 a—正 b—正 2 a—正 b—誤
3 a—誤 b—正 4 a—誤 b—誤

- (2) Aにある湖の名前を 1～4 から、さらに湖の特徴を説明した文を 5～8 からそれぞれ一つずつ選び、番号で答えなさい。

- 1 田沢湖 2 洞爺湖 3 猪苗代湖 4 浜名湖
5 安積疎水の水源になっている。 6 日本一面積が大きい湖である。
7 海水と淡水が混じる汽水湖である。 8 日本一深い湖である。

- (3) A の都道府県庁所在地名を漢字で答えなさい。また、A の都道府県の位置を【略地図】から選び、番号で答えなさい。

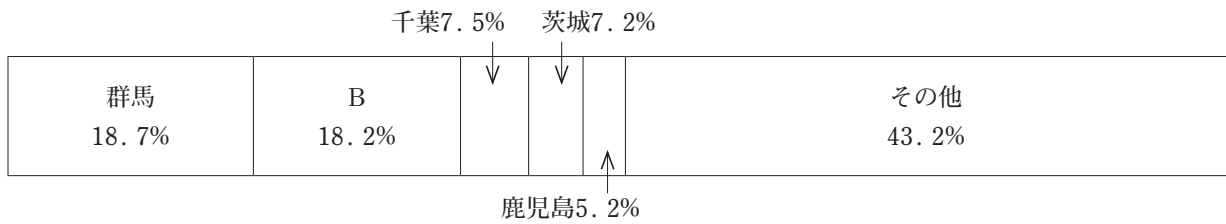
問2 Bについて、次の問いに答えなさい。

- (1) Bについて説明した文 a・b の正誤の組合せとして正しいものを下の 1～4 から一つ選び、番号で答えなさい。

- a 渥美半島から三河湾を埋め立てた中部国際空港（セントレア）が繋がっている。
b B には、長篠の戦いや関ヶ原の戦いの古戦場が見られる。

- 1 a—正 b—正 2 a—正 b—誤
3 a—誤 b—正 4 a—誤 b—誤

- (2) 次のグラフは、Bで生産が盛んな農作物の割合を示しています。このグラフが示している農作物を下の1～4から一つ選び、番号で答えなさい。



(『日本国勢図会 2021/22』より作成)

- | | |
|--------|----------|
| 1 はくさい | 2 レタス |
| 3 キャベツ | 4 ほうれんそう |

- (3) Bの都道府県庁所在地名を漢字で答えなさい。また、Bの都道府県の位置を【略地図】から選び、番号で答えなさい。

問3 Cについて、次の問いに答えなさい。

- (1) Cについて説明した文 a～c の正誤の組合せとして正しいものを下の 1～8 から一つ選び、番号で答えなさい。

- a 面積が都道府県の中では一番小さい。
b 人口が都道府県の中では一番少ない。
c C には四万十川が流れている。

- | | | | | | | | |
|---|-----|-----|-----|---|-----|-----|-----|
| 1 | a—正 | b—正 | c—正 | 2 | a—正 | b—正 | c—誤 |
| 3 | a—正 | b—誤 | c—正 | 4 | a—正 | b—誤 | c—誤 |
| 5 | a—誤 | b—正 | c—正 | 6 | a—誤 | b—誤 | c—正 |
| 7 | a—誤 | b—正 | c—誤 | 8 | a—誤 | b—誤 | c—誤 |

- (2) Cの都道府県庁所在地名を漢字で答えなさい。また、Cの都道府県の位置を【略地図】から選び、番号で答えなさい。

問4 Dについて、次の問いに答えなさい。

- (1) Dについて説明した文として正しいものを次の 1～3 から一つ選び、番号で答えなさい。
すべて誤っていれば 4 と答えなさい。

- 1 D には、三大名園に数えられる兼六園^{けんろくえん}がある。
2 D には徳川家康を祀^{まつ}っている日光東照宮がある。
3 D にある霞ヶ浦周辺には、加曾利貝塚^{かそり}や稲荷山古墳といった原始から古代の歴史的遺物が数多く発見されている。

- (2) Dの都道府県庁所在地名を漢字で答えなさい。また、Dの都道府県の位置を【略地図】から選び、番号で答えなさい。


問5 Eについて、次の問いに答えなさい。

- (1) Eについて説明した文 a～c の正誤の組合せとして正しいものを下の 1～8 から一つ選び、番号で答えなさい。

- a E は有明海に面している。
b E には漢委奴国王と刻まれた金印が発掘された場所がある。
c E はかつて豊前国と豊後国に属していた。

- | | | | | | | | |
|---|-----|-----|-----|---|-----|-----|-----|
| 1 | a—正 | b—正 | c—正 | 2 | a—正 | b—正 | c—誤 |
| 3 | a—正 | b—誤 | c—正 | 4 | a—正 | b—誤 | c—誤 |
| 5 | a—誤 | b—正 | c—正 | 6 | a—誤 | b—誤 | c—正 |
| 7 | a—誤 | b—正 | c—誤 | 8 | a—誤 | b—誤 | c—誤 |

- (2) 以下はEが生産上位に入る作物のグラフです。このグラフが示す作物を下の 1～4 から一つ選び、番号で答えなさい。



(『日本国勢図会 2021/22』より作成)

- | | | | |
|---|-------|---|------|
| 1 | 小麦 | 2 | たまねぎ |
| 3 | じゃがいも | 4 | にんじん |

(問題は次のページに続く)

2 とし子さんは、歴史の授業で学んだことを6枚のカードにまとめました。A～Fのカードを読んで、あとの問いに答えなさい。なお、文中の空らん①～④の□の数は語句の指定文字数を示しています。

A	18世紀に人口が100万人をこえるなど、江戸は当時最大の ^(ア) 城下町として繁栄した。江戸幕府は、15代将軍の徳川慶喜が1867年、朝廷に対し①□□□□するまで続いた。
B	本能寺の変の直後、山崎の戦いで②□□□□を破って織田信長の後継者としての地位を固めた ^(イ) 豊臣秀吉は、大坂城を拠点に天下統一事業をすすめ、1590年に全国を統一した。
C	^(ウ) 源頼朝は ^(エ) 鎌倉に幕府を開き、主従関係をむすんだ③□□□を守護や地頭などに任命し、幕府の支配を全国に拡大した。鎌倉幕府は1333年に滅 ^{ほろ} ぶまで約150年間続いた。
D	平安時代から1869年まで都がおかれた ^(オ) 京都には、15世紀に起きた ^(カ) 11年におよぶ争乱で大きな被害を受けた歴史がある。
E	奈良には、8世紀前半に聖武天皇の命令によってつくられた東大寺大仏がある。聖武天皇は、 ^(キ) 仏教の力で社会の不安をしずめ、国を治めようとしたのであった。
F	2024年に新しく発行される予定の紙幣 ^{へい} には、 ^(ク) 明治時代を中心に活躍した渋沢栄一をはじめ、女子教育に尽力 ^{じん} した④□□□□、細菌学者の北里柴三郎が描 ^{えが} かれることになっている。

問1 カードAについて、以下の問いに答えなさい。

(1) 下線部 (ア) に関連する説明として正しいものを次の1～4から一つ選び、番号で答えなさい。すべて誤っていれば5と答えなさい。

- 1 一乗谷 (現福井市) は、越前の戦国大名毛利氏が築いた城下町である。
- 2 春日山 (現上越市) は、越後の戦国大名武田氏が築いた城下町である。
- 3 甲府 (現甲府市) は、甲斐の戦国大名上杉氏が築いた城下町である。
- 4 府内 (現大分市) は、豊後の戦国大名北条氏が築いた城下町である。

(2) 空らん①にあてはまる語句を漢字で答えなさい。

問2 カードBについて、以下の問いに答えなさい。

- (1) 空らん②にあてはまる人名を漢字で答えなさい。
- (2) 下線部(イ)について、豊臣秀吉による政策と法令の組合せとして正しいものを次の1～4から一つ選び、番号で答えなさい。すべて誤っていれば5と答えなさい。
- | | |
|---------------|-----------------|
| 1 政策—守護・地頭の設置 | 法令—武家諸法度 |
| 2 政策—刀狩 | 法令—バテレン(宣教師)追放令 |
| 3 政策—太閤検地 | 法令—永仁の徳政令 |
| 4 政策—六波羅探題の設置 | 法令—御成敗式目(貞永式目) |

問3 カードCについて、以下の問いに答えなさい。

- (1) 下線部(ウ)に関連する説明として正しいものを次の1～4から一つ選び、番号で答えなさい。すべて誤っていれば5と答えなさい。
- 1 源頼朝の妹であった政子は、頼朝の死後、「尼將軍」として幕府の政治に影響を与えた。
 - 2 1221年、後鳥羽上皇は源頼朝を將軍とする幕府を倒そうと承久の乱を起こし、敗れた。
 - 3 源氏の將軍は3代で絶え、その後、幕府の政治は將軍となった北条氏に引きつがれた。
 - 4 2度の元寇を機に源氏は支配力を強め、以後、幕府の力はより安定したものとなった。
- (2) 下線部(エ)に位置しているものとして誤っているものを次の1～4から一つ選び、番号で答えなさい。すべて正しければ5と答えなさい。
- | | | | |
|-------|-------|---------|-------|
| 1 建長寺 | 2 南禅寺 | 3 鶴岡八幡宮 | 4 円覚寺 |
|-------|-------|---------|-------|

- (3) 下線部 (エ) の姉妹都市に山口県の萩市があります。萩市には多くの幕末志士が学んだ松下村塾の史跡^{せき}がありますが、この松下村塾で指導にあたり、のち幕府を批判したため処刑された人物を次の1～4から一つ選び、番号で答えなさい。また、その人物の姓名^{せい}を漢字で答えなさい。

1



2



3



4



- (4) 空らん③にあてはまる語句を漢字で答えなさい。

問4 カードDについて、以下の問いに答えなさい。

- (1) 下線部 (オ) に関連するものとして誤っているものを次の1～4から一つ選び、番号で答えなさい。すべて正しければ5と答えなさい。

1 友禅染

2 清水焼

3 興福寺

4 竜安寺石庭

(2) 下線部 (カ) に関する説明文として誤っているものを次の 1～4 から一つ選び、番号で答えなさい。すべて正しければ 5 と答えなさい。

- 1 8 代将軍足利義政の後継者問題や、細川氏と山名氏の権力争いなどが争乱の要因となった。
- 2 この乱が起きると、公家や文化人が地方に逃れたため、京都の文化が地方に伝えられた。
- 3 この乱のころから、鉄砲をもって走りまわる足軽が現れるようになった。
- 4 この乱で西軍の陣地となった場所は、織物職人たちによって高級織物の産地となった。

問5 カードEについて、以下の問いに答えなさい。

(1) 下線部 (キ) について、人々のために橋や道、池や水路などをつくりながら仏教を広め、東大寺の大仏づくりにも協力した僧の名を漢字で答えなさい。

(2) カード E の時代に関する次の文 a～c の正誤の組合せとして正しいものを下の 1～8 から一つ選び、番号で答えなさい。すべて誤っていれば 9 と答えなさい。

- a この時代の前半に、世界最古の木造建築である法隆寺が建てられた。
- b この時代の中ごろ、唐から僧 鑑真が来日し、唐招提寺を創建した。
- c この時代の後半に、日本最古の和歌集である「万葉集」がつくられた。

- | | | | | | | | |
|---|------|------|------|---|------|------|------|
| 1 | a 一正 | b 一正 | c 一正 | 2 | a 一正 | b 一正 | c 一誤 |
| 3 | a 一正 | b 一誤 | c 一誤 | 4 | a 一誤 | b 一正 | c 一正 |
| 5 | a 一誤 | b 一誤 | c 一正 | 6 | a 一正 | b 一誤 | c 一正 |
| 7 | a 一誤 | b 一正 | c 一誤 | 8 | a 一誤 | b 一誤 | c 一誤 |

問6 カードFについて、以下の問いに答えなさい。

- (1) 下線部(ク)について、この時代に起きた次のI～IVの出来事を古い順に並べた正しい組合せを下の1～8から一つ選び、番号で答えなさい。すべて誤っていれば9と答えなさい。

〔出来事〕

I 日比谷焼打ち事件

II 三国干渉

III 関税自主権回復

IV 廃藩置県

1 I → II → III → IV

2 I → IV → III → II

3 II → III → IV → I

4 II → I → IV → III

5 III → IV → II → I

6 III → II → I → IV

7 IV → II → I → III

8 IV → III → II → I

- (2) 空らん④にあてはまる人名を漢字で答えなさい。

(問題は次のページに続く)



3 次の太郎くん（小学4年生）の家族紹介文を読んで、あとの問いに答えなさい。

○お父さんのプロフィール

1983（昭和58）年、港区生まれのお父さんは、大学在学中に友人と^(ア) IT関係の会社を立ち上げ成功しました。現在は、^(イ) 中国や東南アジアを中心に取引を展開しています。1年の半分は海外生活です。忙しいお父さんですが、休みに日本に帰ってくるとぼくとテニスをしてくれます。とてもうれしいです。

○お母さんのプロフィール

^(ウ) 1986（昭和61）年に江戸川区で生まれました。大学卒業後、^(エ) 地方公務員として^(オ) 東京都で^(カ) 税金に関する仕事をおこなう主税局で働いています。ぼくと妹が小さい時は仕事と子育て、そして家事の両立に苦労したそうです。近くにおばあさんが住んでいるのでずいぶん助けられたとよく話しています。

○おじいさんのプロフィール

^(キ) 1956（昭和31）年に長崎県で生まれました。大学進学のため上京し、卒業後は、東京都内の中学高校で社会科の教員を務め、退職後は、その知識を活かして東京都近郊都市の市議会議員に転身しました。どの^(ク) 政党にも所属しない無所属議員として活動しています。^(ケ) 日本国憲法の改正の必要性を地域で強く主張しています。

○おばあさんのプロフィール

1958（昭和33）年に文京区で生まれました。都内の看護大学を卒業後は、総合病院で看護師として勤務し、現在は看護学校の先生として看護師の育成の仕事をしています。一昨年から続く^(コ) 「コロナ禍」の中で、「医療崩壊」の現場の支援に入りました。

問1 下線部（ア）について、工業化社会から情報化社会への移行で大きく変わろうとしている産業界の中であって、独自の高度な技術や知識を武器にして、市場を切りひらく小規模な企業のことを一般に何といいますか、解答らんにあうようにカタカナ5字で答えなさい。

問2 下線部(イ)の中国について、次の表を見て、あとの問いに答えなさい。

- (1) 1972年以降、日中貿易が飛躍的に伸びた理由として、1972年と1978年に起きた出来事にその原因があります。1972年と1978年に起きた出来事について説明した文a・bの正誤の組合せとして、正しいものを下の1～4から一つ選び、番号で答えなさい。

〔日本と中国の貿易額の変化〕

年	日本→中国	中国→日本
1972	6億ドル	5億ドル
1991	86億ドル	142億ドル
2001	311億ドル	581億ドル
2011	1615億ドル	1835億ドル

(『貿易投資関係情報』2012年7・8月号)

- a 1972年に日本の田中角栄首相が訪中し、中国の周恩来首相との間で日中共同声明に調印、日中国交正常化が実現した。
- b 1978年に日本と中国の外交関係の発展のために日中平和友好条約が締結された。この条約締結時の首相は佐藤栄作である。

- 1 a—正 b—正 2 a—正 b—誤
3 a—誤 b—正 4 a—誤 b—誤

- (2) 日本と中国と台湾がその領有を主張している地域名を解答らんにあうように漢字2字で答えなさい。
- (3) 中国は、ユーラシア大陸を經由してヨーロッパにつながる陸路の「シルクロード経済ベルト」と東南アジア、南アジア、アラビア半島、アフリカ東岸を結ぶ海路の「21世紀海上シルクロード」の2つの地域で、貿易・経済活動・インフラ整備を促進しようとしていますが、このプロジェクトを中国は何と呼んでいますか、解答らんにあうように空らん漢字をそれぞれ1字ずつ入れなさい。

問3 下線部(ウ)について、太郎くんのお母さんが生まれた1980年代後半の好景気をバブル景気といいます。このバブル景気について説明した文a・bの正誤の組合せとして正しいものを下の1～4から一つ選び、番号で答えなさい。

- a 1980年代後半には、土地や株式への投資がすすみ、全国の地価と株価が^{こうとう}高騰した。
b ニューヨークに本社を置いていた大手投資銀行グループ「リーマンブラザーズ」が経営破たん^{てん}に追いこまれ、この金融危機の影響を受けてバブル経済は終了した。

- 1 a—正 b—正 2 a—正 b—誤
3 a—誤 b—正 4 a—誤 b—誤

問4 下線部(エ)について、「国民の三大義務」に加えて、公務員にはもう1つの義務が課せられています。次の日本国憲法第99条の空らんにあてはまる語句を漢字2字で答えなさい。

「天皇又は^{せつしやうおよ}摂政及び国務大臣、国会議員、裁判官その他の公務員は、この憲法を
 ^{ようご}し擁護する義務を負う」 ※擁護…かばい守ること。
※

問5 下線部(オ)について、現在の東京都知事の氏名を漢字で答えなさい。

問6 下線部(カ)について、税金は納め方の違いにより直接税と間接税の2通りに区分することができます。間接税を次の1～4から一つ選び、番号で答えなさい

- 1 法人税 2 関税 3 相続税 4 所得税

問7 下線部(キ)について、1956(昭和31)年に起こった出来事でないものを次の1～4から一つ選び、番号で答えなさい。

- 1 経済企画庁(現在の内閣府)は、経済白書「日本経済の成長と近代化」の結びで「もはや戦後ではない」と記述した。
2 日本は国際連合に加盟し、国際社会への復帰を果たした。
3 朝鮮戦争の休戦協定が成立した。
4 日ソ共同宣言が調印され、日本はソビエト連邦と国交を回復した。

問8 下線部(ク)について、2021(令和3)年9月29日(水)に実施された自由民主党総裁選挙で当選した人物を次の1～4から一つ選び、番号で答えなさい。

- 1 岸田文雄 2 河野太郎 3 高市早苗 4 野田聖子

問9 下線部(ケ)について、次の憲法第96条(憲法改正の手続き条項)について、空らんにあてはまる語句や数字の組合せとして正しいものを下の1～4から一つ選び、番号で答えなさい。

この憲法の改正は、各議院の総議員の 以上の賛成で、 がこれを発議し、国民に提案してその承認を経なければならない。この承認には、特別の国民投票又は の定める選挙の際行われる投票において、その の賛成を必要とする。
…(以下略)

- 1 あ：3分の2 い：内閣 う：4分の3
2 あ：3分の2 い：国会 う：過半数
3 あ：過半数 い：国会 う：過半数
4 あ：4分の3 い：内閣 う：3分の2

問10 下線部(コ)の対策として、「都市封鎖」とも訳され、一定期間、対象地域での人の移動を制限したり、企業活動を禁じたりする措置を何といいますか、カタカナで答えなさい。

(問題は前のページで終わり)

