

2023 年度 入学試験問題

社 会

(第 3 回)

[注意]

1. 試験開始の合図があるまで、この問題冊子の中を見てはいけません。
2. 解答用紙は、問題冊子の中にはさんであります。試験開始の合図があったら、解答用紙を取り出して受験番号と氏名を記入し、QRコードシールをはりなさい。
3. 解答はすべて解答用紙に記入しなさい。特に指定がない場合は、ひらがなで構いません。
4. 問題冊子の余白等は自由に使って構いません。
5. 試験終了後、解答用紙のみ提出し、問題冊子は持ち帰りなさい。

1 次のⅠ・Ⅱの各問いに答えなさい。

Ⅰ. 図1は、中部地方を流れる揖斐川^{いび}の支流である津屋川の流域を示した地形図です（ほぼ原寸）。
図1を参照して、次の問いに答えなさい。※地図の向きに注意すること。

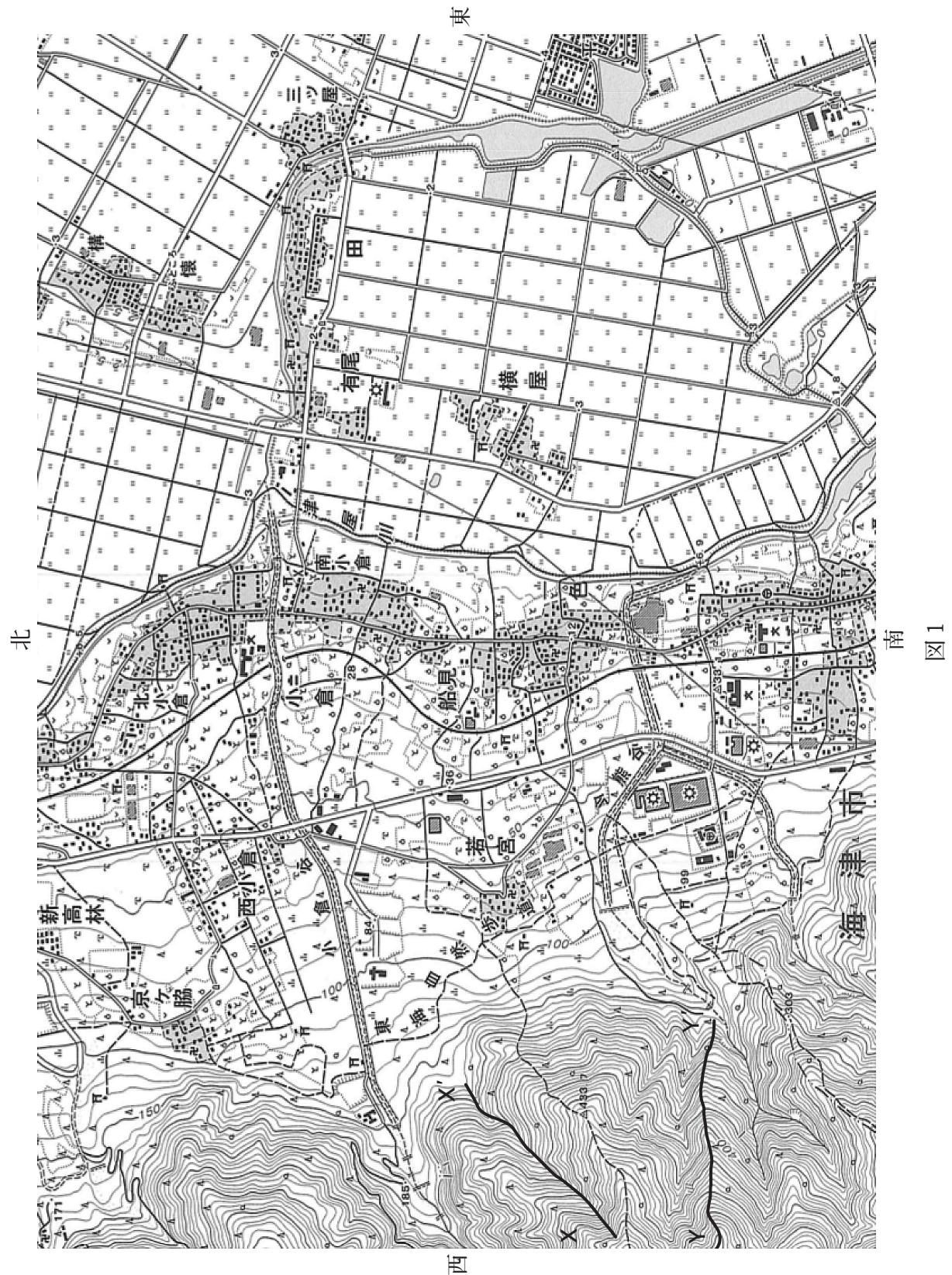


図1

問 1 図 1 中の小倉谷や今熊谷がある地域は、西側の山地の谷から東側の低地に向かってなだらかに土砂が広がって作られています。この地形の名称を答えなさい。

問 2 北小倉～小倉～船見～一色の地域にかけては南北方向に集落がみられます。これらの集落が作られた理由として最も適するものを次の 1～4 から一つ選び、番号で答えなさい。

- 1 かつて山林で伐採した木材を河川を用いて運ぶのに便利であったため。
- 2 古くから市役所が設置されており、地域の中心で人が多く集まったため。
- 3 鉄道が開通した時に駅が設置されて、通勤や通学に便利であるため。
- 4 山地から流れてくる地下水が湧き出る地点が連なっているため。

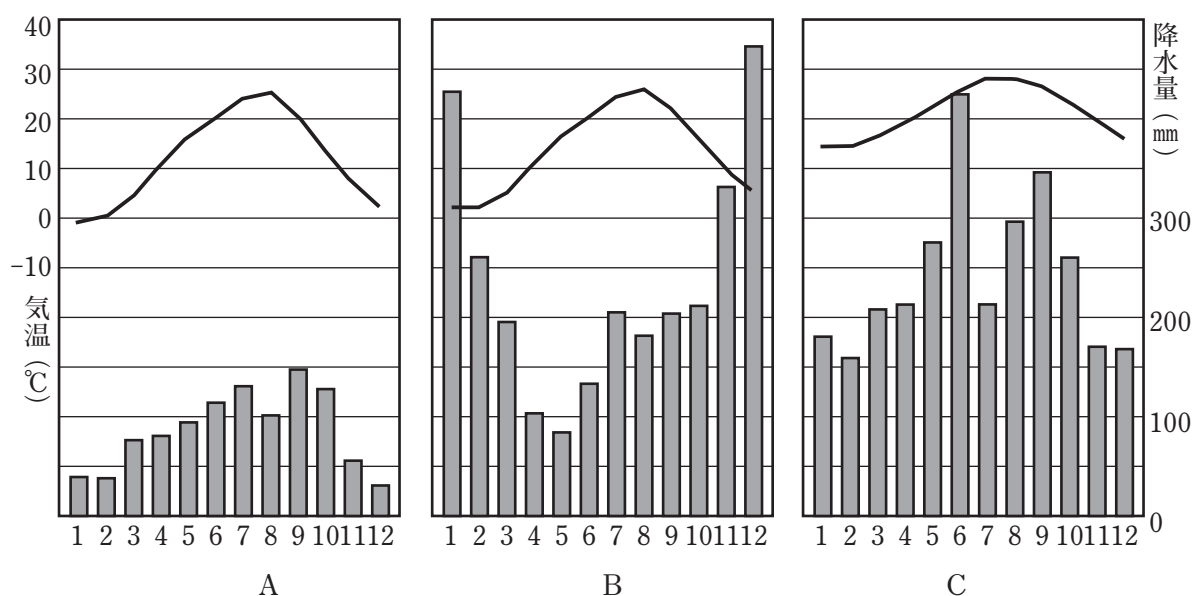
問 3 図 1 中の X－X'、Y－Y' は、尾根または谷のいずれかを示したものです。これら 2 つの線の正しい組合せを次の 1～4 から一つ選び、番号で答えなさい。

	1	2	3	4
X－X'	尾 根	尾 根	谷	谷
Y－Y'	尾 根	谷	尾 根	谷

問 4 有尾、田、横屋の集落がある地域一帯は、一部分を除いて地域全体を取り囲むように堤防を築いて水害に備えています。このような集落の名称を解答らんにあうように漢字 2 字で答えなさい。

Ⅱ. あとの問いに答えなさい。

問5 図2中のグラフA～Cは、図3中に示した1～6のいずれかの地域の特徴を表した雨温図です。図2中のグラフA～Cにあてはまる地域を図3中の地域1～6からそれぞれ一つずつ選び、番号で答えなさい。



(日本国勢図会2022/23による 1991～2020年の平均)

図2

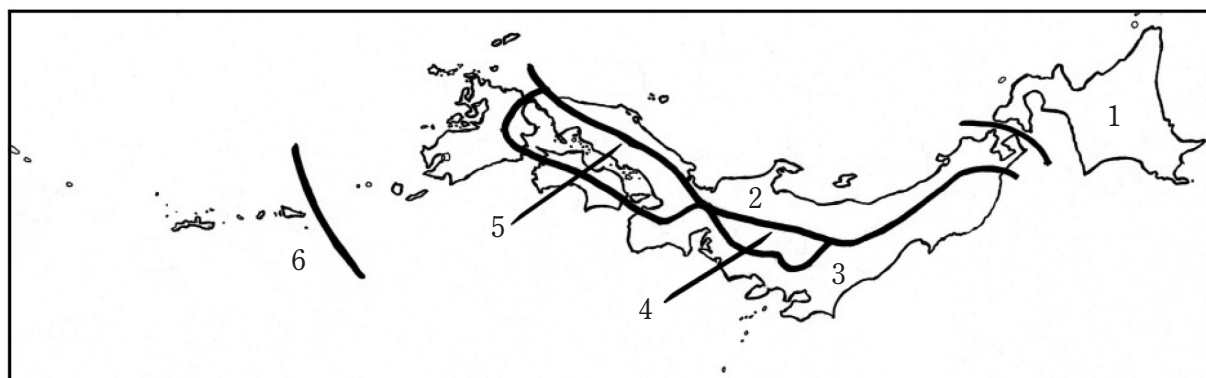


図3

問6 下の写真1について、あとの問いに答えなさい。



写真1

- (1) 写真1の設備は、土砂災害を防ぐために山腹に設置される建造物です。この設備の名称を答えなさい。
- (2) 大雨の際に泥や砂、^{がんかい}岩塊などが水とともに高速で流れ出る現象を何といいますか。漢字3字で答えなさい。

問7 次の表1は世界の原油産出量上位5か国を、表2は日本の原油輸入先の上位5か国をそれぞれ示したものです。表1および表2中のA・Bにあてはまる国名を下の1～6からそれぞれ一つずつ選び、番号で答えなさい。

表1
原油産出量上位5か国（2019年）

国名	産出量 (万トン)	%
アメリカ	60413	15.4
A	52759	13.4
B	48887	12.4
イラク	23148	5.9
中国	19101	4.9
世界計	393203	100.0

（データブックオブ・ザ・ワールド2022）

表2
日本の原油輸入先上位5か国（2020年）

国名	輸入量 (千kL)	%
B	58559	40.1
アラブ首長国	45988	31.5
カタール	13086	9.0
クウェート	12062	8.3
A	6022	4.1
合計（その他含む）	146026	100.0

（データブックオブ・ザ・ワールド2022）

- | | | |
|-----------|----------|-------|
| 1 イラン | 2 インドネシア | 3 カナダ |
| 4 サウジアラビア | 5 ベトナム | 6 ロシア |

問 8 現在、北海道新幹線の延伸工事が札幌駅に向けて進められていますが、札幌延伸後には、並行する在来線の旅客営業が一部区間を除いて廃止される可能性が高いと報じられています。高校生の通学手段が失われるなど沿線住民の問題のほか、本州と北海道の物資輸送にも影響が及ぶといわれています。

- (1) 本州と北海道を結ぶ海底トンネルの名称を漢字で答えなさい。
- (2) 次の表 3 中のア～ウは、北海道が主産地となっている農作物の生産量と生産上位の都道府県を示したものです。ア～ウの農作物を下の 1～6 からそれぞれ一つずつ選び、番号で答えなさい。

表 3

ア		イ		ウ	
北海道	31.3%	北海道	65.6%	北海道	78.6%
千 葉	18.0	佐 賀	9.2	鹿児島	3.9
徳 島	8.5	兵 庫	7.3	長 崎	3.8
青 森	6.8	長 崎	2.4	茨 城	1.9
長 崎	5.3	愛 知	2.0	千 葉	1.3
生産量58万5900t		生産量135万1000t		生産量220万4000t	

各作物の生産量は2020年出荷分

(データでみる県勢 2022年版)

- | | | |
|--------|--------|---------|
| 1 だいこん | 2 たまねぎ | 3 トマト |
| 4 にんじん | 5 はくさい | 6 ばれいしょ |

(問題は次のページに続く)



- 2 2022 年は、「日中共同声明」が発表されてから 50 年の節目の年です。下の文章は、外務省が発表している「日本国政府と中華人民共和国政府の共同声明」の一節です。この文章を読んで、あとの問いに答えなさい。

日本国内閣総理大臣 1 は、中華人民共和国国務院総理 2 の招きにより、千九百七十二年九月二十五日から九月三十日まで、中華人民共和国を訪問した。1 総理大臣には大平正芳^{まさよし}外務大臣、二階堂進内閣官房長官その他の政府職員が随行^{ずいこう}した。

中華人民共和国の 3 主席は、九月二十七日に 1 総理大臣と会見した。双方は、真剣かつ友好的な話し合いを行った。

1 総理大臣及び大平正芳外務大臣と 2 総理及び姫鵬飛^{きほうひ}外交部長は、日中両国間の国交正常化問題をはじめとする両国間の諸問題及び双方が関心を有するその他の諸問題について、終始、友好的な雰囲気の中で真剣かつ率直に意見を交換し、次の両政府の共同声明を発出することに合意した。

～ 中略 ～

一

日本国と中華人民共和国との間のこれまでの不正常な状態は、この共同声明が発出される日に終了する。

二

(ア) 日本国政府は、中華人民共和国政府が中国の唯一の合法政府であることを承認する。

三

中華人民共和国政府は、台湾が中華人民共和国の領土^{ふ か ぶ ん}の不可分の一部であることを重ねて表明する。日本国政府は、この中華人民共和国政府の立場を十分理解し、尊重し、(イ) ポツダム宣言第八項に基づく立場^{けんじ}を堅持する。

四

日本国政府及び中華人民共和国政府は、千九百七十二年九月二十九日から外交関係を樹立することを決定した。両政府は、国際法及び国際慣行^{かんこう}に従い、それぞれの首都における他方の大使館の設置及びその任務遂行^{すいこう}のために必要なすべての措置^{そち}をとり、また、できるだけすみやかに大使を交換することを決定した。

五

中華人民共和国政府は、中日両国国民の友好のために、日本国に対する (ウ) 戦争賠償の請求を放棄することを宣言する。

六

日本国政府及び中華人民共和国政府は、主権及び領土保全の相互尊重、相互不可侵、内政に対する相互不干渉、平等及び互恵並びに平和共存の諸原則の基礎の上に両国間の恒久的な^(エ) 平和友好関係を確立することに合意する。

両政府は、諸原則及び^(オ) 国際連合憲章の原則に基づき、日本国及び中国が、相互の関係において、すべての紛争を平和的手段により解決し、武力又は武力による^(イカク) 威嚇に訴えないことを確認する。

七

日中両国間の国交正常化は、第三国に対するものではない。両国のいずれも、アジア・太平洋地域において覇権^(ハケン)を求めるべきではなく、このような覇権を確立しようとする他のいかなる国あるいは国の集団による試みにも反対する。

八

日本国政府及び中華人民共和国政府は、両国間の平和友好関係を強固にし、発展させるため、平和友好条約の締結を目的として、交渉を行うことに合意した。

九

日本国政府及び中華人民共和国政府は、両国間の関係を一層発展させ、人的往来を拡大するため、必要に応じ、また、既存^(キソン)の民間取決めをも考慮^(コウリョ)しつつ、^(カ) 貿易、海運、航空、漁業等の事項に関する協定の締結を目的として、交渉を行うことに合意した。

千九百七十二年九月二十九日に北京で
(外務省HPより作成)

問1 空らん にあてはまる人名を漢字4字で答えなさい。

問2 空らん の人物が逮捕された事件として正しいものを次の1～4から一つ選び、番号で答えなさい。すべて誤っていれば5と答えなさい。

- 1 大津事件 2 免田事件 3 砂川事件 4 シーメンス事件

問3 空らん にあてはまる、中華人民共和国初代総理（首相）の人名として正しいものを次の1～4から一つ選び、番号で答えなさい。すべて誤っていれば5と答えなさい。

- 1 ^{りゅうしょうき} 劉少奇 2 ^{しゅうきんぺい} 習近平 3 ^{とうしょうへい} 鄧小平 4 ^{しゅうおんらい} 周恩来

問4 空らん 3 にあてはまる人物について、次の問いに答えなさい。

- (1) 空らん 3 にあてはまる人物を説明した文 a・b の正誤の組合せとして正しいものを下の 1～4 から一つ選び、番号で答えなさい。

- a 1949年 10 月 1 日、北京の天安門に立ち、中華人民共和国の成立を宣言した。
b 「大躍進^{だいやくしん}」政策の失敗で、1959年に国家主席を辞任した。

- | | | | | | |
|---|-----|-----|---|-----|-----|
| 1 | a—正 | b—正 | 2 | a—正 | b—誤 |
| 3 | a—誤 | b—正 | 4 | a—誤 | b—誤 |

- (2) 空らん 3 にあてはまる人名を漢字 3 字で答えなさい。

問5 下線部 (ア) について、明治維新後の新政府による国家体制の整備内容として、あとの問いに答えなさい。

- (1) 次の「五箇条の御誓文」の内容の空らんにあてはまる語句を漢字で答えなさい。

一、広ク〔 〕ヲ興シ、万機公論ニ決スヘシ

- (2) 明治政府が行った内容として誤っているものを次の 1～4 から一つ選び、番号で答えなさい。すべて正しければ 5 と答えなさい。

- 1 1869年に版籍奉還をおこない、各藩に土地と人民を朝廷に返上させた。
- 2 1871年に廃藩置県をおこない、知藩事を解任して政府から県令・府知事を派遣した。
- 3 1872年に学制を公布し、満 6 歳以上の全ての男女が小学校に通うこととした。
- 4 1873年に地租改正をおこない、土地所有者に地券を発行し、地価の 5% を金納させた。

問6 下線部（イ）について、1945年7月のポツダム会談に出席した国とその国の代表の組合せとして正しいものを次の1～3から一つ選び、番号で答えなさい。すべて誤っていれば4と答えなさい。

- | | | | |
|---|---------|---|--------|
| 1 | アメリカ | — | トルーマン |
| 2 | ソヴィエト連邦 | — | フルシチョフ |
| 3 | イギリス | — | サッチャー |

問7 下線部（ウ）について、日本が関わった戦争の講和条約についての文a・bの正誤の組合せとして正しいものを下の1～4から一つ選び、番号で答えなさい。

- a 日清戦争の講和条約は1895年の下関条約であり、清は遼東半島を日本に譲ったが賠償金は発生しなかった。
- b 日露戦争の講和条約は1905年のポーツマス条約であり、ロシアは南満州の鉄道利権を日本に譲ったが賠償金は発生しなかった。

- | | | | | | |
|---|-----|-----|---|-----|-----|
| 1 | a—正 | b—正 | 2 | a—正 | b—誤 |
| 3 | a—誤 | b—正 | 4 | a—誤 | b—誤 |

問8 下線部（エ）について、1978年の日中平和友好条約を結んだ時の日本の内閣総理大臣として正しいものを次の1～4から一つ選び、番号で答えなさい。すべて誤っていれば5と答えなさい。

- | | | | | | | | |
|---|------|---|------|---|------|---|-------|
| 1 | 佐藤栄作 | 2 | 三木武夫 | 3 | 福田赳夫 | 4 | 中曽根康弘 |
|---|------|---|------|---|------|---|-------|

問9 下線部（オ）について、国際連合憲章が調印・発行されたのは何世紀のことですか。解答らんにしたがって算用数字で答えなさい。

問10 下線部（カ）について、次の文は「日米修好通商条約」を説明したものです。空らん
[A] ～ [D] にあてはまる語句を、[A] はカタカナで、[B] ～ [D] は
漢字2字でそれぞれ答えなさい。

1856年7月21日、下田に駐在するため初代アメリカ総領事として来日した[A] は、日本との貿易ができるよう「通商条約」の締結を幕府に求めました。[B] 天皇からは条約調印^{ちよつきよ}の勅許が得られないまま、1858年6月19日、大老の井伊直弼は「日米修好通商条約」全14条を締結しました。条約の調印は神奈川沖に泊まっているポーハタン号の上で行いました。

また幕府は、アメリカに続いて、オランダ・ロシア・イギリス・フランスとも同様の条約を結びました。これを[C] の五カ国条約といいます。下田・函館の開港に続き、第3条では、神奈川・[D] ・新潟・兵庫の開港と江戸・大坂の開市、通商は自由貿易とすることが書かれています。

(問題は次のページに続く)



- 3 ここ十数年の間に起きた出来事をまとめた次の年表を見て、以下の問いに答えなさい。

年	出来事
2010	(ア) <u>日米安全保障条約</u> の署名50周年をむかえる。
2011	東北地方太平洋沖地震が発生し、東日本大震災の災害救助に (イ) <u>自衛隊</u> が派遣される。
2012	(ウ) <u>衆議院議員選挙</u> を経て、自民党・公明党の自公連立政権による第2次 1 内閣発足。
2013	富士山が (エ) <u>世界文化遺産</u> 登録される。
2014	集団的自衛権の行使を容認する (オ) <u>憲法解釈</u> の変更を閣議決定。
2015	COP21は、2020年以降の地球温暖化対策の新たな国際枠組みである「 2 協定」を採択した。
2016	アベノミクスがセカンドステージに入り、新3本の矢である、(カ) 「GDP600兆円」・「合計特殊出生率1.8」・「介護離職ゼロ」による、「一億総活躍社会」を目指す各種政策を打ち出した。
2017	(キ) <u>核兵器禁止条約</u> が7月、国連で122カ国の賛成を得て採択された(2021年発効)。育児・介護休業法が改正される。
2018	働き方改革関連法が成立。
2019	(ク) <u>消費税率</u> が8%から10%に引き上げられた。
2020	アメリカ大統領選で、 A 党のバイデン前副大統領が B 党の現職トランプ大統領に勝利。
2021	(ケ) <u>デジタル庁</u> が設置される。
2022	ロシアが (コ) <u>ウクライナ</u> への侵攻を開始する。

問1 下線部（ア）について説明した文 a・b の正誤の組合せとして正しいものを下の1～4から一つ選び、番号で答えなさい。

- a この条約に基づいて日本に置かれたアメリカの軍用地の約 3 分の 1 が沖縄に集中している。
- b この条約と同様に共同防衛を明文化した安全保障条約を日本はイギリスと結んでいる。

- | | | | | | |
|---|-----|-----|---|-----|-----|
| 1 | a—正 | b—正 | 2 | a—正 | b—誤 |
| 3 | a—誤 | b—正 | 4 | a—誤 | b—誤 |

問2 下線部（イ）について説明した文 a・b の正誤の組合せとして正しいものを下の1～4から一つ選び、番号で答えなさい。

- a シビリアン・コントロールがとられており、最高指揮監督権は内閣総理大臣にある。
- b PKO への協力を行い、1990年代にカンボジアに派遣された。

- | | |
|-----------|-----------|
| 1 a—正 b—正 | 2 a—正 b—誤 |
| 3 a—誤 b—正 | 4 a—誤 b—誤 |

問3 下線部（ウ）における現在の選挙制度について説明した文として正しいものを次の1～4から一つ選び、番号で答えなさい。

- 1 公職選挙法では投票をお願いするための候補者による戸別訪問は禁止されている。
- 2 2021年の衆議院議員総選挙の投票率は50%を下回った。
- 3 情報の格差が生じるため、インターネットを利用しての選挙運動は禁止されている。
- 4 旅行やレジャーなどで選挙当日に都合が悪い場合は期日前投票は認められない。

問4 年表中の空らん

1

 にあてはまる人物の姓名を漢字で答えなさい。

問5 下線部（エ）について、世界遺産条約を採択した国連教育科学文化機関の略称をカタカナで答えなさい。

問6 下線部（オ）について、経済の発展や社会生活の変化によって、憲法に直接規定のない人権が主張されるようになってきました。その新しい人権として誤っているものを次の1～4から一つ選び、番号で答えなさい。

- 1 マスメディアなどによって「私生活をみだりに公開されない権利」などのプライバシーの権利
- 2 高層建築によって侵される日照権や、タバコの煙の害を受けない権利などを含めた環境権
- 3 主権者である国民が行政機関の情報などを自由に入手できるという「知る権利」
- 4 海外に在住する日本人にも国政選挙の選挙権を保障する参政権

問7 年表中の空らん にあてはまる都市名を答えなさい。

問8 下線部（カ）について説明した文として正しいものを次の1～4から一つ選び、番号で答えなさい。

- 1 GDPは生活の豊かさを示すので、戦車や軍艦を製造してもGDPは増えない。
- 2 GDPの増加率は経済成長率であり、日本はここ10年マイナスになったことはない。
- 3 少子化が進み、日本の合計特殊出生率は2000年以降毎年下がり続けている。
- 4 社会保険の1つとして40歳以上の国民全員が加入する介護保険制度が導入されている。

問9 下線部（キ）について説明した文a・bの正誤の組合せとして正しいものを下の1～4から一つ選び、番号で答えなさい。

- a 日本は唯一の被爆国としてこの条約に参加し、発効に向けて努力を重ねた。
- b 包括的核実験禁止条約（CTBT）に日本は参加しているが、アメリカなどの核保有国が承認していないため、現在も発効にいたっていない。

- | | |
|-----------|-----------|
| 1 a—正 b—正 | 2 a—正 b—誤 |
| 3 a—誤 b—正 | 4 a—誤 b—誤 |

問10 下線部（ク）について、消費税と同じ間接税にあたる税を次の1～4から一つ選び、番号で答えなさい。

- | | | | |
|-------|--------|-------|-------|
| 1 法人税 | 2 たばこ税 | 3 相続税 | 4 所得税 |
|-------|--------|-------|-------|

問11 年表中の空らん ・ にあてはまる語句の組合せとして正しいものを次の1～4から一つ選び、番号で答えなさい。

- | | |
|-------------|-------------|
| 1 A・共和 B・民主 | 2 A・自由 B・共和 |
| 3 A・民主 B・共和 | 4 A・共和 B・自由 |

問12 下線部（ケ）について、次の比較的新しい省庁のうち、発足した順にならべた時に最も古いものを次の1～4から一つ選び、番号で答えなさい。

- 1 金融庁 2 復興庁 3 観光庁 4 消費者庁

問13 下線部（コ）について、現在のウクライナの場所を以下の地図中の1～5から一つ選び、番号で答えなさい。※ただし、ウクライナの領土はロシアによる侵攻前とする。



(問題は前のページで終わり)

